

Classi terze

Nome dell'alunno/a _____

Quante case ci sono in tutto nella scacchiera? _____

Quante case bianche ci sono nella scacchiera? _____

Quante colonne? _____

Quante traverse? _____

Da quanti pezzi è composto **l'esercito bianco**? _____

Quanti sono i **pedoni neri**? _____

Quanti pezzi **bianchi e neri** ci sono in tutto? _____

Scrivi i nomi di tutti i personaggi che formano un esercito seguendo la posizione della scacchiera.

- T _____
- C _____
- A _____
- R _____
- R _____
- A _____
- C _____
- T _____

Come si muove la torre?

- Orizzontale, verticale e obliquo.
- Orizzontale e verticale.

Quanti passi può fare la torre?

Come si muove l'alfiere?

- Orizzontale e verticale.
- Obliquo.

Quanti passi può fare l'alfiere?

Quale lettera dell'alfabeto forma il cavallo con il suo movimento?

Come si può muovere la regina?

- Può fare quanti passi vuole in orizzontale e verticale.
- Può fare quanti passi vuole in orizzontale e verticale e obliquo.

Quanti passi può fare il re? _____

Il re si può muovere in tutte le direzioni? _____

Quanti passi possono fare i pedoni? _____

















Come catturano i pedoni?

- In avanti
- In obliquo

Cosa succede quando il pedone arriva nell'ultima traversa nel campo avversario?

Quando si dice "Scacco Matto"?

OSSERVA LA SCACCHIERA E COMPLETA IL TESTO

8								
7								
6								
5								
4								
3								
2								
1								
	A	B	C	D	E	F	G	H

Sono più i CAVALLI BIANCHI o i CAVALLI NERI?













Sono più i RE BIANCHI o i RE NERI?

Sono più i PEDONI (bianchi e neri) o i CAVALLI (bianchi e neri)?

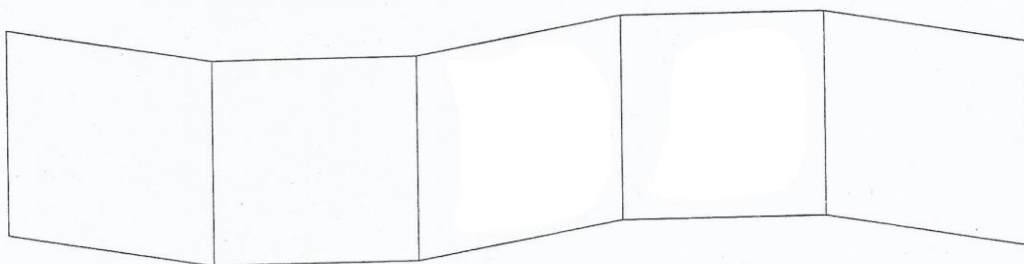
Sono più le TORRI BIANCHE o le REGINE NERE?

Sono più gli ALFIERI NERI o gli ALFIERI BIANCHI?

QUESTI SONO I PEZZI DEGLI SCACCHI

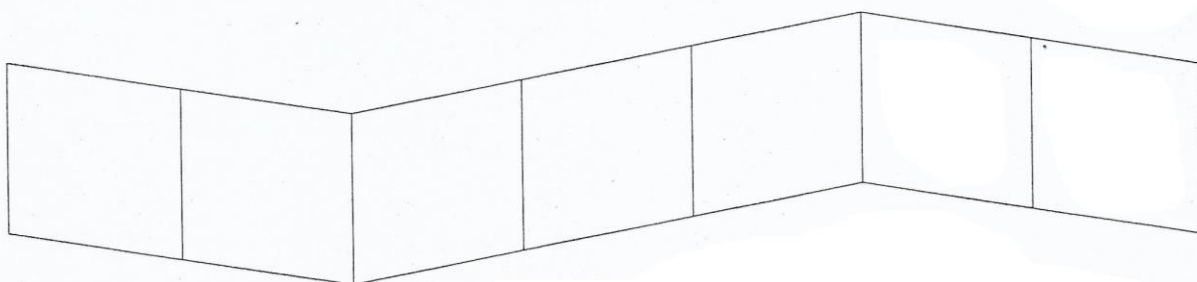
	RE	REGINA	TORRE	ALFIERE	CAVALLO	PEDONE
Neri						
Bianchi						

DISEGNA I PEZZI NELLA STRISCIA COME INDICATO



- Il pedone bianco è *nel mezzo*
- La torre nera è *a destra* di tutti
- Il re bianco è *a sinistra* di tutti
- La regina nera è *a destra* del re bianco
- Nel quadretto rimasto disegna l'alfiere bianco

DISEGNA I PEZZI NELLA STRISCIA COME INDICATO



- Il pedone nero è *a sinistra* di tutti
- La torre bianca è *a destra* di tutti
- Il cavallo nero è *in mezzo* a tutti
- La regina bianca è *a destra* del pedone nero
- Il re nero è *a sinistra* del cavallo nero
- L'alfiere nero è *a sinistra* della torre bianca
- Nel quadretto rimasto disegna il cavallo bianco

DISEGNA I PEZZI DELLA SCACCHIERA COME INDICATO



IL RE È AL CENTRO DELLA SCACCHIERA
L'ALFIERE È AL CENTRO A DESTRA
LA REGINA È AL CENTRO A SINISTRA
IL CAVALLO È SOPRA A SINISTRA
IL PEDONE È SOTTO A DESTRA
LA TORRE È SOTTO A SINISTRA

INDICA LA RISPOSTA GIUSTA

Rispetto al cavallo, la regina è ...

SOPRA SOTTO DESTRA SINISTRA

Rispetto al pedone, l'alfiere è ...

SOPRA SOTTO DESTRA SINISTRA

Rispetto al re, la regina è ...

SOPRA SOTTO DESTRA SINISTRA

Rispetto alla regina, la torre è ...

SOPRA SOTTO DESTRA SINISTRA